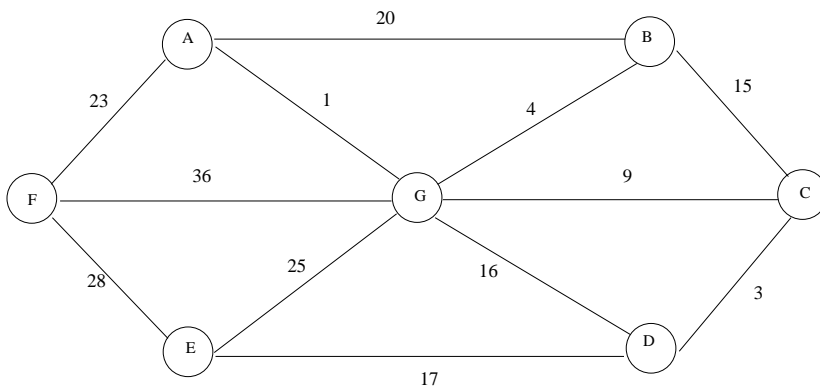


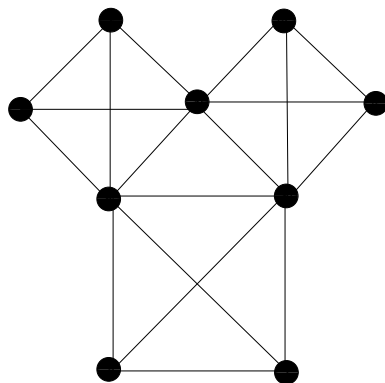
Exercice I

En utilisant l'algorithme de Kruscal, trouver un arbre de recouvrement minimal du graphe suivant :



Exercice II

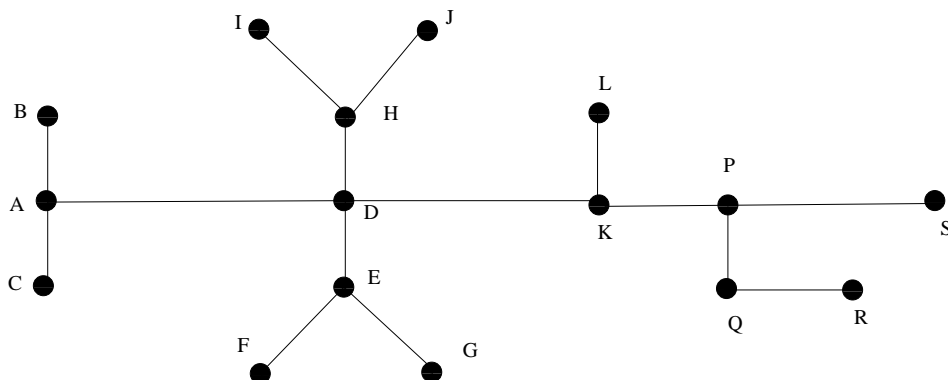
Trouvez une chaîne eulérienne pour le graphe suivant :



Exercice III

Soit $G = (S, A)$ un arbre. Pour deux sommets x, y quelconques de G , si C est 'la' chaîne élémentaire joignant x et y dans G on pose $d(x, y)$ égal à la longueur de C .

- Montrer que d est une distance sur S , autrement dit : pour tout $x, y, z \in S$ on a
 - $d(x, y) = 0 \iff x = y$.
 - $d(x, y) = d(y, x)$.
 - $d(x, z) \leq d(x, y) + d(y, z)$.
- L'excentricité d'un sommet x est par définition $ex(x) = \sup_{y \in S}(d(x, y))$.
Calculer la fonction ex pour chacun des sommets du graphe suivant :



- Le rayon de G est par définition $r(G) = \inf_{x \in S}(ex(x))$. $x \in S$ est dit un centre pour G si $ex(x) = r(G)$.
 - Calculer le rayon et 'les' centres de l'arbre ci-dessus.
 - Montrer qu'un arbre a soit un centre unique soit deux centres adjacents.

Exercice IV

Une suite décroissante (d_1, d_2, \dots, d_n) d'entiers positifs est dite graphique s'il existe un graphe simple non-orienté G ayant n sommets s_1, s_2, \dots, s_n tels que $d(s_i) = d_i$ pour tout i entre 1 et n .

- Dire si les séquences suivantes sont graphiques ou pas en justifiant vos réponses :
 - $(3, 3, 2, 2, 2)$.
 - $(4, 3, 3, 2, 1)$.
- Soit (d_1, d_2, \dots, d_n) une suite décroissante d'entiers positifs tel que $d_1 \neq 0$. Dans toute la suite on admettra la propriété suivante :

(d_1, d_2, \dots, d_n) est graphique $\iff TD(d_2-1, d_3-1, \dots, d_{d_1+1}-1, d_{d_1+2}, d_{d_1+3}, \dots, d_n)$ est graphique
où $TD(y_1, y_2, \dots, y_m)$ est la séquences obtenue à partir de la séquence d'entiers positifs (y_1, y_2, \dots, y_m) par un trie décroissant.

Remarque : On a en particulier nécessairement $d_{d_1+1} \geq 1$.

- Proposer un algorithme qui permet de tester si une séquence est graphique ou pas et justifier la terminaison de votre algorithme.
- Appliquer votre algorithme pour vérifier pour chacune des séquences suivantes s'elle est graphique ou pas et en donnant dans le cas où elle est graphique un graphe correspondant à cette séquence :
 - $(6, 4, 4, 4, 4, 2, 2)$.
 - $(5, 5, 5, 5, 4, 2, 2, 2, 2)$.
 - $(4, 4, 3, 2, 1, 0)$.